

COMPITI DI MATEMATICA E SCIENZE DAL 4 AL 10 MAGGIO

MATEMATICA

Su OK

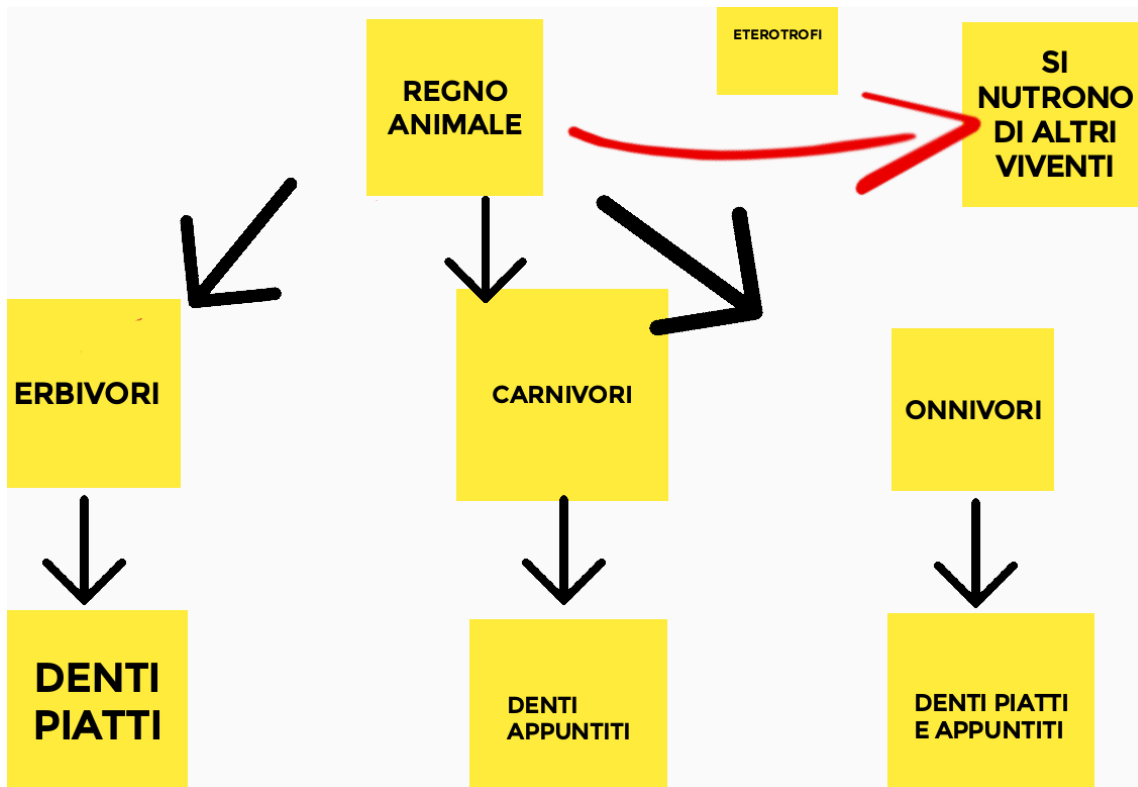
- Pag 43 es.2 lettere A e B
- PAG 46 es 2, es 3 lettera A
- PAG 47 es. 2
- Pag 48 es. 2 e 3

Sull'eserciziario

- Pag 39 es 1e 4 sul quaderno

SCIENZE




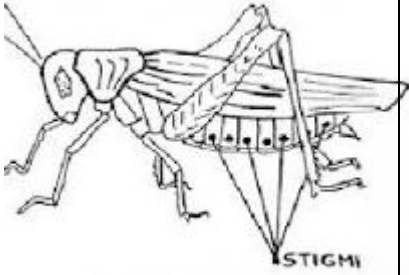



Schema 1



RESPIRARE VUOL DIRE.....

Gli animali respirano in diversi modi:



 <p>i mammiferi, gli uccelli e i rettili</p> 	 <p>gli insetti</p> 	 <p>i pesci</p>	 
---	--	--	--

Cosa devi fare:

- Osserva bene ogni schema ,
- Ripeti a voce alta cio' che osservi aggiungendo anche altri particolari,
- Scrivi su un foglio word ciò che hai ripetuto,
- Fatti aiutare da un adulto per spedirlo a questo indirizzo mail: alba.vighenzi@icpiadena.edu.it
- Se non puoi spedirli fai una foto dei testi scientifici e inviameli con WhatsApp

Buon lavoro