

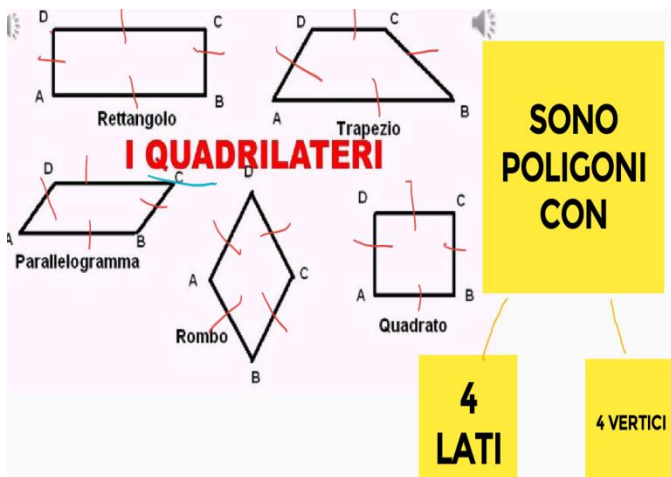
# COMPITI DI MATEMATICA E SCIENZE DALL' 11 AL 17 MAGGIO

Vi ricordo che le nostre lezioni sono anticipate alle 14,45 .




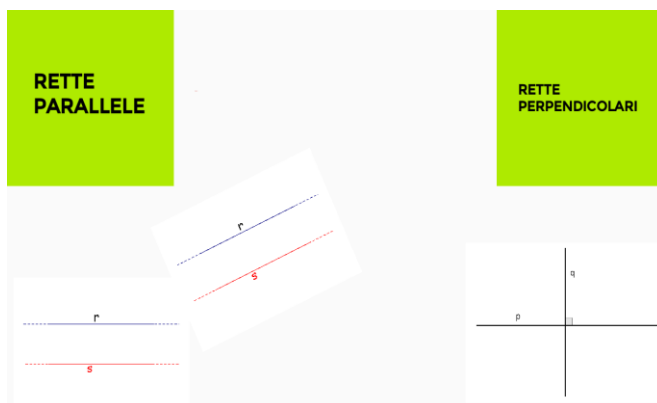
## MATEMATICA

Sul quaderno di geometria ricopia questi schemi e studiali bene. Ricordati che le figure geometriche si disegnano con il righello.



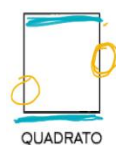
I quadrilateri sono poligoni che hanno quattro lati e quattro angoli.

Si classificano in base alle caratteristiche dei lati e degli angoli

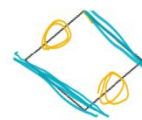


I quadrilateri con due coppie di lati paralleli si dicono parallelogrammi.

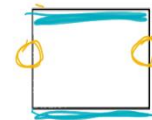
Come il:



QUADRATO



ROMBO



RETTANGOLO



ROMBOIDE

Su OK

- Pag 43 es.2 lettere C e D
- PAG 46 es 3 lettera B
- PAG 47 es. 3 lettera A

## Sull'eserciziario

- Pag 41 es 1-2-3-4-5-6.

## SCIENZE

Ricopia dal padlet la lezione sulla riproduzione e ripetila.

Sul libro studia pag. 240 e 241.

Sull'eserciziario completa le pagine 18 e 19.