

Il reticolo

- Colora il reticolo seguendo le indicazioni.

	A	B	C	D	E	F	G
1							
2							
3							
4							
5							
6							
7							

(A-1)=BLU

(B-2)=ROSSO

(C-3)=VERDE

(D-7)=GIALLO

(D-4)=NERO

(G-4)=GIALLO

(C-4)=AZZURRO

(E-3)=VERDE

(D-5)=AZZURRO

(G-1)=BLU

(B-6)=ROSSO

(A-7)=BLU

(D-1)=GIALLO

(F-6)=ROSSO

(G-7)=BLU

(F-2)=ROSSO

(C-5)=VERDE

(E-4)=AZZURRO

(A-4)=GIALLO










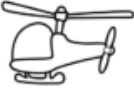











(E-5)=VERDE

(D-3)=AZZURRO

- Obiettivo didattico: individuare la posizione degli elementi utilizzando il reticolo.

Il reticolo

- Osserva il reticolo e scrivi cosa si trova nelle caselle indicate.

	A	B	C	D	E	F	G
1							
2							
3							
4							
5							
6							
7							

- | | | |
|------------|------------|------------|
| A-1= | G-7= | G-1= |
| C-3= | E-1= | C-6= |
| E-4= | C-5= | F-5= |
| E-6= | D-5= | D-7= |
| F-2= | D-4= | C-1= |
| A-6= | G-4= | G-5= |
| B-3= | A-7= | D-2= |

- Obiettivo didattico: individuare la posizione degli elementi utilizzando il reticolo.