

CLASSE 3°B SCUOLA PRIMARIA DI PIADENA

ITALIANO

- LEGGI E COMPLETA PAG.15-19-22-23-24-27-28-29 LIBRO AZZURRO
- ESEGUI GLI ESERCIZI A PAG. 102-108-112-116 (TRANNE ES 4) DEL LIBRO AZZURRO.
- SCRIVI COMPLETANDO A PAG 176-177-178 SEMPRE LIBRO AZZURRO.

STORIA

- STUDIA LE PAGINE ASSEGNATE IN PREVISIONE DELLA VERIFICA CHE FAREMO AL RITORNO A SCUOLA.
- STUDIA PAG 40 LIBRO GIALLO E SOTTOLINEA COME NELLA FOTO. (+ SCHEMA DI STUDIO SUL FUOCO).
- FAI PAGINE 158-159-160 LIBRO GIALLO.

MATEMATICA

- ESEGUI PAG 44 OK MATE (RISOLVI I PRIMI 4 PROBLEMI SUL QUADERNO CON DATI, RISOLVO, DIAGRAMMA, RISPOSTA)
- PAG. 55 OK MATE
- ESEGUI LE DIVISIONI CON LA PROVA (IN PREPARAZIONE ALLA VERIFICA)


| | | | |
|-------------|-------------|----------------|----------------|
| $428 : 2 =$ | $126 : 6 =$ | $1522 : 2 =$ | $732 : 3 =$ |
| $399 : 3 =$ | $455 : 5 =$ | $2\ 373 : 3 =$ | $454 : 6 =$ |
| $639 : 3 =$ | $158 : 2 =$ | $1\ 575 : 5 =$ | $2\ 535 : 2 =$ |
| $244 : 2 =$ | $165 : 3 =$ | $2\ 768 : 4 =$ | $3\ 823 : 3 =$ |
| $375 : 5 =$ | $276 : 3 =$ | $527 : 5 =$ | $632 : 6 =$ |

- PAG 80 ES 1 (DOPO AVER RIPASSATO SUL QUADERNO COS'È UN POLIGONO- NO ES 2) LIBRO VERDE
- PAG 81 ES 1-2 (NO ES 3-4) LIBRO VERDE
- SCHEDE GEOMETRIA ALLEGATE

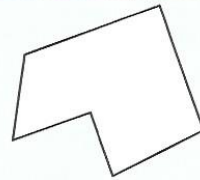
SCI : RIPASSARE IL TERRENO PER VERIFICA

Linee e poligoni

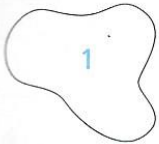
RICORDA!



Si chiamano **poligoni** tutte le figure piane che hanno per confine una **linea spezzata chiusa**.
I segmenti che formano il confine di un poligono si chiamano **lati**.



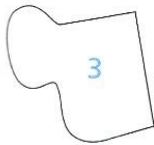
1 Indico con una X la risposta giusta e completo la frase.



- La figura ha per confine:
 - una linea mista chiusa
 - una linea spezzata chiusa
 - una linea curva chiusa




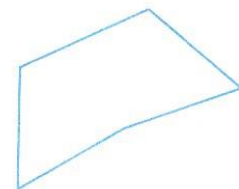
- La figura ha per confine:
 - una linea mista chiusa
 - una linea spezzata chiusa
 - una linea curva chiusa



- La figura ha per confine:
 - una linea mista chiusa
 - una linea spezzata chiusa
 - una linea curva chiusa


- Soltanto la figura piana n° è un poligono perché il suo confine è una

2 Coloro di rosso solo i poligoni. Indico con una freccia il poligono che ha più lati.




GIOCHIAMO CON LE FIGURE

1 Colora dello stesso colore le figure piane che hanno la stessa forma:



2 Colora di rosso i rettangoli, di verde i quadrati, di blu i triangoli:



INGLESE: ripassa la Unit 4, in preparazione alla verifica. Se vuoi, fai gli esercizi della scheda.

• **SCOPRI E SCRIVI LA DOMANDA**

.....? NO, I DON'T LIKE MILK.
.....? I'M 9.
.....? MY NAME'S LAURA.
.....? I'M FROM LONDON.
.....? YES, HERE YOU ARE.
.....? IT'S 20 CENTS.

• **COLLEGA LE DOMANDE ALLE RISPOSTE**

| | |
|-----------------------------|---------------------|
| DO YOU LIKE CHEESE ? | I'M TEN. |
| WHERE ARE YOU FROM? | YES, I LIKE CHEESE. |
| HOW OLD ARE YOU? | IT'S 40 CENTS. |
| WHAT COLOUR IS YOUR PEN? | YES, HERE YOU ARE. |
| WHAT'S YOUR NAME? | I'M FROM ITALY. |
| HOW MUCH IS IT? | IT'S RED. |
| CAN I HAVE A COMIC, PLEASE? | MY NAME'S PAUL. |

• **COMPLETA USANDO LE SEGUENTI PAROLE E SCRIVI SUL QUADERNO**

PLEASE- HOW- 50- HAVE - YOU

- CAN I _____ A COMIC, _____ ?
- YES, HERE _____ ARE.
- _____ MUCH IS IT?
- IT'S _____ CENTS.

- **WRITE**

have Can a comic please? I

from? are Where you _____

you? How old are _____

you fish? like Do _____


much How it? is _____

GEOGRAFIA

- Leggi e completa a pag.136 del libro.
- Aiutandoti con il disco che abbiamo costruito a scuola, completa la scheda.

CORREZIONE VERIFICA ORIENTAMENTO

- Scrivi i 4 punti cardinali



- I punti opposti sono: -
..... -
- E' mattino, ho il sole alle spalle, perciò cammino verso
..... .
- Osservo il tramonto del sole, perciò guardo verso
..... .
- A mezzogiorno guardo il sole, quindi sono rivolto verso
..... e alle spalle ho
.
- Se guardo verso Nord alla mia destra ho
..... .

- **Completa la tabella con i punti cardinali, aiutandoti con il "disco"**

| | A destra | A sinistra | dietro |
|--------------------------|-----------------|-------------------|---------------|
| Se guardo a Nord | | | |
| Se guardo a Est | | | |
| Se guardo a Sud | | | |
| Se guardo a Ovest | | | |